

ÖRÜNTÜLER

* Sayıların ve şekillerin belli bir kurala göre sıralanmasına **örüntü** denir.

* Örüntünün kuralını bulmak için sıralanan sayıların arasındaki ilişkiyi bulmalıyız.

$+3 \quad +3 \quad +3 \quad +3 \quad +3$
15 - 18 - 21 - 24 - 27 - 30

Örüntü kuralı : Üçer artıyor.


$-5 \quad -5 \quad -5 \quad -5 \quad -5$
62 - 57 - 52 - 47 - 42 - 37

Örüntü kuralı : Beşer azalıyor.

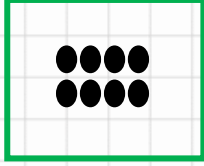
$+5 \quad -1 \quad +5 \quad -1 \quad +5$
50 - 55 - 54 - 59 - 58 - 63

Örüntü kuralı : 5 artıyor, 1 azalıyor.


* Şekil örüntülerinde önce şekil sayılarını buluruz. Daha sonra şekiller arasındaki ilişkiyi bulmalıyız.



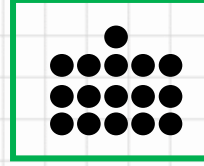
1.adım




2.adım




3.adım



4.adım



5.adım



6.adım

Örüntü kuralı :

