

## KESİRLER

- Bir nesnenin tamamına bütün denir.




Bütün ..... çeyrek  
Bütün ekmek



Bütün pizza




Bütün elma




Bütün şekil

- Bir nesnenin tam ortadan bölünmesiyle 2 tane yarım oluşur.



yarım yarım




yarım yarım




yarım yarım

- Bir nesnenin tam 4 eşit parçaya bölünmesiyle çeyrek oluşur.



çeyrek çeyrek



çeyrek çeyrek


- Bütün, yarım ve çeyrek sayıları yazınız. (Bölerek gösteriniz)



..... bütün

..... yarım

..... çeyrek



..... bütün

..... yarım

..... çeyrek

□ Kaç bütün olduğunu yazınız. (Birleştirme yapınız.)



..... yarım ..... bütün eder.



..... çeyrek ..... bütün eder.

□ Boşlukları doldurunuz.

→ 2 yarım ..... bütün eder.

→ 4 yarım ..... bütün eder.

→ 8 yarım ..... bütün eder.

→ 12 yarım ..... bütün eder.

→ 4 çeyrek ..... bütün eder.

→ 12 çeyrek ..... bütün eder.

→ 8 çeyrek ..... bütün eder.

→ 16 çeyrek ..... bütün eder.

→ 2 çeyrek ..... yarım eder.

→ 6 çeyrek ..... yarım eder.

→ 10 çeyrek ..... yarım eder.

→ 12 çeyrek ..... yarım eder.

→ 1 bütün ..... yarım eder.

→ 3 bütün ..... yarım eder.

→ 5 bütün ..... yarım eder.

→ 6 bütün ..... yarım eder.

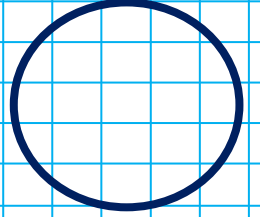


→ 1 bütün ..... çeyrek eder.

→ 2 bütün ..... çeyrek eder.

→ 3 bütün ..... çeyrek eder.

→ 5 bütün ..... çeyrek eder.

Şekilleri yarım ve çeyrek olarak bölünüz.



Şekillerin yarısını boyayınız.

